

**DUUR
ZAME**
ambachten



RIET





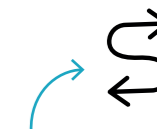
INHOUDSOPGAVE

Werkblad les 1 _____	3
Woordweb les 3 _____	4
Werkbladen les 3 _____	5
Werkblad muziek _____	12
Knipblad bij opdracht 7, les 3 _____	13
Werkbladen rekenen _____	17
Wist je dat.... _____	27

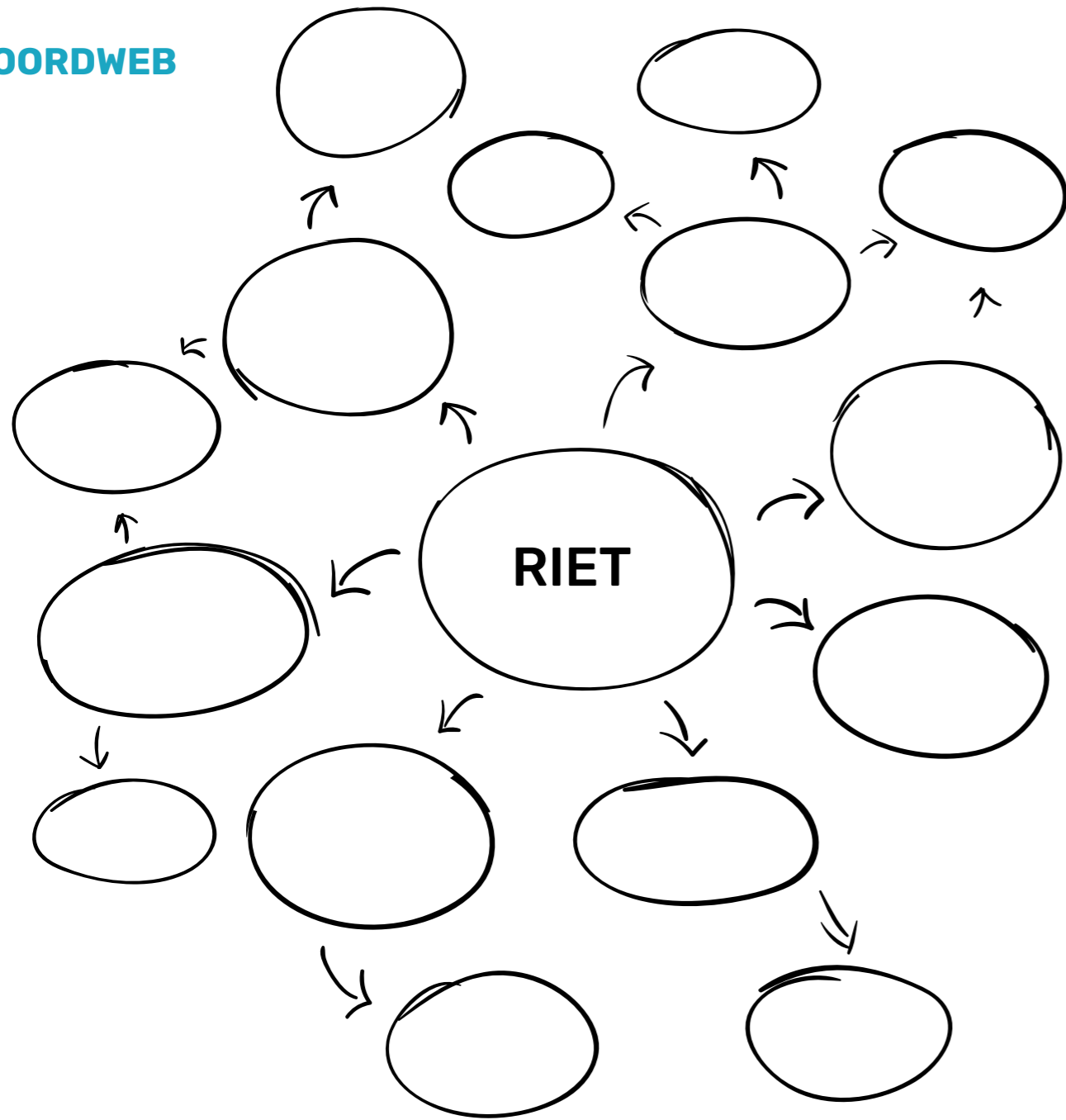
Werkblad Les 1

OPDRACHT 1: In de juiste volgorde

Zet de getallen 1, 2, 3, 4, 5 en 6 bij het juiste plaatje, zodat de plaatjes in de juiste volgorde staan.



WOORDWEB



RIET

Werkblad Les 3


OPDRACHT 1: Mijn verhaal over het riet...

Schrijf een verhaal over de rietexcursie. Maak er ook een tekening bij.



verhaal:

tekening:




RIET

Werkblad Les 3

OPDRACHT 2: Zoek de woorden

De woorden kunnen van links naar rechts of van boven naar beneden staan.



boot
water
dak
vis
bloem
eend
vogel
turf
stengel
riet

w	x	v	i	s	p	t
a	r	i	e	t	r	v
t	b	l	o	e	m	z
e	o	e	e	n	d	t
r	o	p	j	g	a	u
c	t	h	u	e	k	r
v	o	g	e	l	w	f



RIET

Werkblad Les 3

OPDRACHT 3: Goed of fout?

Zijn de zinnen goed of fout geschreven? Is de zin fout? Schrijf de zin dan goed.



1. riet hoog staat Het

2. vogels De vliegen

3. De vaart boot

4. in het Eenden zwemmen water

5. bloemen kleuren hebben De mooie

6. veel Er groeien planten

7. De zon schijnt



RIET


Werkblad Les 3

OPDRACHT 4: Welke zin?

Wat zie je op deze foto's? Schrijf bij elke foto een zin. _____




1. _____



2. _____



3. _____



4. _____



5. _____

**DUUR
ZAME**
ambachten



RIET

Werkblad Les 3

OPDRACHT 5: Welk woord mist er?Kies uit de woorden **waait, staat, vliegen, vaart, zit, zwemmen, springen** en vul ze in.

1. De eenden _____ naar de overkant.

2. De man _____ in de boot.

3. De wind _____ erg hard.

4. De vissen _____ uit het water.

5. De bijen _____ in de lucht.

6. De man _____ op het dak.


7. De vogel _____ op het nest.

**DUUR
ZAME**
ambachten



RIET

Werkblad Les 3

OPDRACHT 6: Los de puzzel op

Oplossing:

--	--	--	--	--	--	--

**DUUR
ZAME**
ambachten

RIET

Werkblad Les 3

OPDRACHT 7: Maak je eigen memoryspel

Bedenk verschillende plaatjes die te maken hebben met riet. Teken ze op een kaartje. Op het andere kaartje schrijf je het woord. Maak zoveel kaartjes als je wilt. Knip ze uit en..... Je hebt je eigen memoryspel gemaakt. **VEEL PLEZIER!**



riet

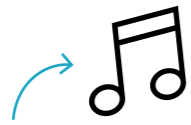


De kaartjes vind
je midden in dit
werkboekje op
PAGINA 14 en 15

Werkblad Muziek

OPDRACHT: 't Rietland

Lied op de melodie van Lente



Vogels en vissen
Ze zijn niet te missen
Op deze mooie plek
Vind ik het echt te gek

De bloemen gaan bloeien
En planten die groeien
Vogels vliegen aan
En 't riet zie je al staan

Want dit mooie land
En riet gaan hand in hand
Zo moet het zijn
want in 't rietland, daar is het reuzefijn!

Na maanden van groeien
Gaan telers nu snoeien
Het riet dat is nu klaar
Gebundeld bij elkaar

't Riet gaat op daken
Dat kan men hier maken
Dat is een heel karwei
Maar 't maakt de mensen blij

Want dit mooie land
En riet gaan hand in hand
Zo moet het zijn
want in 't rietland, daar is het reuzefijn!



RIET

DUUR
ZAME
ambachten



RIET

DUUR
ZAME
ambachten



RIET

DUUR
ZAME
ambachten



RIET

DUUR
ZAME
ambachten



RIET

DUUR
ZAME
ambachten



RIET

DUUR
ZAME
ambachten



RIET

DUUR
ZAME
ambachten



RIET

DUUR
ZAME
ambachten



RIET

DUUR
ZAME
ambachten



RIET

DUUR
ZAME
ambachten



RIET

**DUUR
ZAME**
ambachten



RIET

**DUUR
ZAME**
ambachten



RIET

**DUUR
ZAME**
ambachten



RIET

**DUUR
ZAME**
ambachten



RIET

**DUUR
ZAME**
ambachten



RIET

**DUUR
ZAME**
ambachten



RIET

**DUUR
ZAME**
ambachten



RIET

**DUUR
ZAME**
ambachten



RIET

**DUUR
ZAME**
ambachten



RIET

**DUUR
ZAME**
ambachten



RIET

Werkblad Rekenen

OPDRACHT 1: Reken de kleur uit

- 4 = 5 = 6 = 7 = 8 = 9 = 10 = 11 =

**DUUR
ZAME**
ambachten RIET

Werkblad Rekenen




OPDRACHT 2: Los de piramide-sommen op

**DUUR
ZAME**
ambachten

RIET

Werkblad Rekenen



OPDRACHT 3: Wat staat er?

Los de sommen op. Bij elke uitkomst hoort een letter. Zet alle letters achter elkaar. Welk woord lees je dan? **15 = e, 13 = i, 20 = l, 16 = r, 8 = t**

	Oplossing:	
$8 + 8 =$	<input type="text"/>	$15 = e$
$9 + 4 =$	<input type="text"/>	$13 = i$
$7 + 8 =$	<input type="text"/>	$20 = l$
$2 + 6 =$	<input type="text"/>	$16 = r$
$15 - 7 =$	<input type="text"/>	$8 = t$
$20 - 5 =$	<input type="text"/>	
$31 - 11 =$	<input type="text"/>	
$21 - 6 =$	<input type="text"/>	
$3 + 13 =$	<input type="text"/>	


$15 = e$
 $13 = i$
 $20 = l$
 $16 = r$
 $8 = t$

**DUUR
ZAME**
ambachten

RIET

Werkblad Rekenen

OPDRACHT 4: Getallenkleurplaat



RIET

Werkblad Rekenen

OPDRACHT 5: Hoeveel rietpluimen tel je?



RIET

Werkblad Rekenen

VERVOLG OPDRACHT 5: Hoeveel rietpluimen tel je?

$$\begin{array}{c} \text{3 reedpluimen} \\ + \text{2 reedpluimen} \\ = \square \end{array}$$

$$\begin{array}{c} \text{1 reedpluim} \\ + \text{3 reedpluimen} \\ = \square \end{array}$$

$$\begin{array}{c} \text{2 reedpluimen} \\ + \text{2 reedpluimen} \\ = \square \end{array}$$

$$\begin{array}{c} \text{2 reedpluimen} \\ + \text{3 reedpluimen} \\ = \square \end{array}$$

**DUUR
ZAME**
ambachten

RIET

Werkblad Rekenen

VERVOLG OPDRACHT 5: Hoeveel rietpluimen tel je?

$$\begin{array}{c} \text{3 reedpluimen} \\ - \text{1 reedpluim} \\ = \square \end{array}$$

$$\begin{array}{c} \text{4 reedpluimen} \\ - \text{2 reedpluimen} \\ = \square \end{array}$$

$$\begin{array}{c} \text{3 reedpluimen} \\ - \text{2 reedpluimen} \\ = \square \end{array}$$

$$\begin{array}{c} \text{4 reedpluimen} \\ - \text{2 reedpluimen} \\ = \square \end{array}$$

**DUUR
ZAME**
ambachten

RIET

Werkblad Rekenen

VERVOLG OPDRACHT 5: Hoeveel rietpluimen tel je?



$$\begin{array}{c}
 \text{[2 reed plants]} - \text{[1 reed plant]} = \boxed{}
 \end{array}$$

$$\begin{array}{c}
 \text{[3 reed plants]} - \text{[2 reed plants]} = \boxed{}
 \end{array}$$

$$\begin{array}{c}
 \text{[2 reed plants]} - \text{[1 reed plant]} = \boxed{}
 \end{array}$$

$$\begin{array}{c}
 \text{[3 reed plants]} - \text{[2 reed plants]} = \boxed{}
 \end{array}$$



RIET

Werkblad Rekenen

OPDRACHT 6: Grote sprongen!

Maak sprongen van 5

+5 +5 +5 +5 +5 +5

3

--	--	--	--	--	--	--

+5 +5 +5 +5 +5 +5

12

--	--	--	--	--	--	--

+5 +5 +5 +5 +5 +5

7

--	--	--	--	--	--	--

+5 +5 +5 +5 +5 +5

25

--	--	--	--	--	--	--



RIET

Werkblad Rekenen

VERVOLG OPDRACHT 6: Grote sprongen!

Maak sprongen van 10

3							
12							
7							
25							

**RIET**

WIST JE DAT...
riet dat je afsnijdt, elk jaar weer terugkomt?

WIST JE DAT...
de ringslang heel graag in het riet zit?

WIST JE DAT...
libellen ook graag in het riet leven?

WIST JE DAT...
er ook vleesetende planten in het riet groeien?

WIST JE DAT...
die vleesetende plant de muggen eet die jou in de zomer prikken?

WIST JE DAT...
er allerlei vogels in het riet leven?

WIST JE DAT...
riet uit de weerribben het beste riet van de wereld is?

WIST JE DAT...
een rieten dak in de zomer lekker koel is?

WIST JE DAT...
een rieten dak in de winter lekker warm is?

